

DELO NA DOMU - NAČRTOVANJE , 5.R

SREDA, 20. 5. 2020

DRU:

DRUŽBA, 20.5.2020

1. 2. URA:

DRU: SLOVENSKE ZGODOVINSKE DEŽELE

ZEDINJENA SLOVENIJA

1. Odprite DZ na str. 104 in preberite besedilo SLOVENSKE ZGODOVINSKE DEŽELE.
2. Poglejte si zemljevid in vpišite imena pokrajin. Rešitev preverite v rešitvah.
3. Pojdite v SERIJO RADOVEDNIH 5 v interaktivno gradivo www.radovednih-pet.si in ustno odgovorite na vprašanja:
 - Ali so bili vsi prebivalci vojvodine Kranjske enako oblečeni?
 - Kako so bili oblečeni Gorenjci?
 - Ali Valvazor v svojih zapisih podaja tudi svoje mnenje?
 - Kje v odlomku je to vidno?
4. Odprite DZ: str. 105 in rešite prvo nalogo.
5. Oglejte si POWER POINT SLOVENCİ SKOZI ČAS IN ZEDINJENA SLOVENIJA Ta dva Power Pointa sta naložena v spletni učilnico.Ni vam ju potrebno prepisati. Sta bolj za popestritev in da malo več zveste, pod katerih oblasteh vse smo bili.

2. Ura:

PRVA SVETOVNA VOJNA

- Poglejte si videoposnetek SOŠKA FRONTA, ki ga najdete v interaktivnem gradivu na www.radovednih-pet.si.
Videoposnetek si oglej 2X, da boš lažje odgovarjal na vprašanja.
- 1. Razmisli in ustno odgovori:
 - O čem se pogovarjata Filip in Jaka?
 - Kje lahko najdemo ostanke 1. svetovne vojne?
 - O kateri dolini govori Filip? Poiščite jo na zemljevidu.

- O katerem času govori Filip?
 - Kaj je potekalo na Kolovratu? Vzpetino poišči na zemljevidu.
 - Kaj še vedno najdemo na Kolovratu?
 - Zakaj so se bojevali na vzpetini in ne v dolini?
 - Kako se imenuje fronta, ki je tu potekala?
 - Kako je danes urejeno to območje?
 - S katero mislijo se konča videoposnetek, zakaj?
2. Odprite DZ: str. 106 in rešite 1. nalogo. Rešitve preverite.
 3. Poglej si Power POINT 1. SVETOVNA VOJNA. Naložen je v spletni učilnici.

MAT: KVADRATNI CENTIMETER, KVADRATNI DECIMETER IN KVADRATNI METER

1. Preberi:

Učitelj je učencem razdelil kariraste liste. Učenci so dobili za nalogo, naj izmerijo dolžino in širino poljubnega kvadrata in pobarvajo tisti kvadrat, ki ga merijo.

Slika:

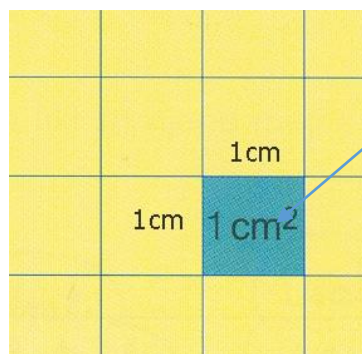


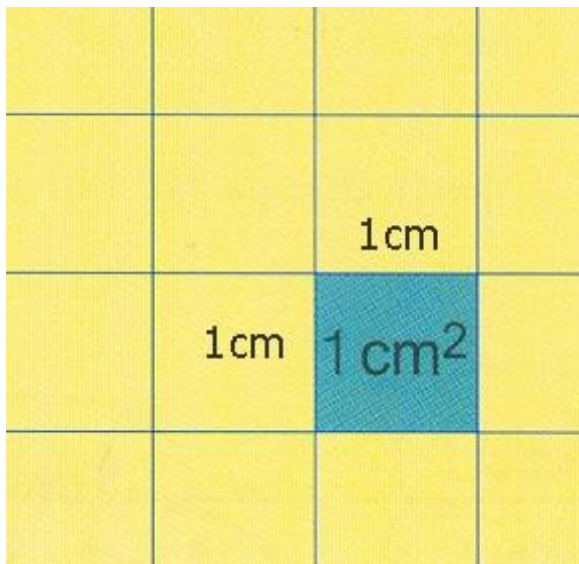
Učenci so izmerili, da meri dolžina kvadrata 1 cm in širina kvadrata 1 cm. Kvadrat so pobarvali z modro barvo.

Učitelju so zastavili vprašanje, kolikšna je ploščina modrega kvadrata.

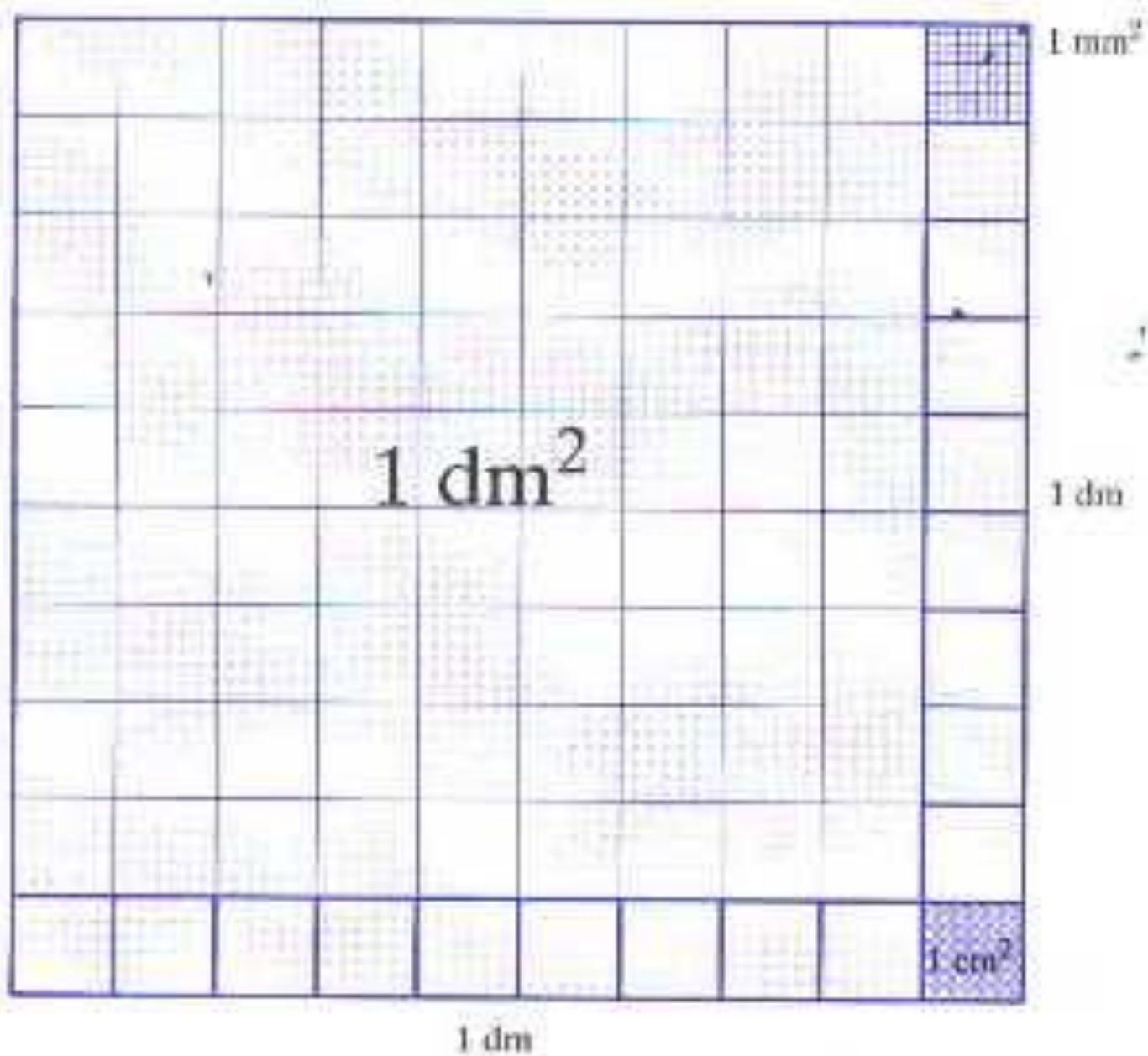
Kvadrat, katerega dolžina in širina merita po 1 cm


ima ploščino 1 kvadratni centimeter. 1 kvadratni centimeter zapišemo krajše





2.Spoznali ste kvadratni centimeter. Sedaj pa si poglejte na spletni strani : <https://eucbeniki.sio.si/mat5/704/index1.html> , kako dobimo kvadratni decimeter.





SLJ: KAKO PIŠEMO VRSTNE PRIDEVNIKE IZ ZEMLJEPISNIH LASTNIH

IMEN?

1. Odprite DZ. str.82 in naredite 1.2.3.4. nalogo. Rešitve preverite v rešitvah.
2. Pojdite na str. 83 in rešite 5.6.7.nalogo. V 5. nalogi odgovarjajte z daljšo povedjo – po vzorcu. Rešitve preverite v rešitvah.
3. Pojdite na str. 84 in rešite 8.9.10 in 11. nalogo . Pri 11 . nalogi bodite pozorni na to :
 - **da dele krajev (tj. ulic, cest, trgov) pišemo z veliko začetnico.**
 - **Neprve besede pa po določenih pravilih (npr. Slovenska cesta, Cesta Andreja Bitenca, Trg republike, Trg komandanta Staneta ipd.).**
4. Nato na str. 85 preberite RAZMISLI IN ODGOVORI ter skušajte ustno odgovoriti.
5. Nato pa naredi DOPOLNI IN POMNI.

Zapis v zvezek:


Kako pišemo vrstne pridevnike iz zemljepisnih lastnih imen?

Besede, ki jih naredimo iz **zemljepisnih lastnih imen**, so **vrstni pridevniki**.

Tvorimo jih tako, da dodamo **-ski** ali **-ški**.

Pišemo jih z malo začetnico. slovenski jezik

Z veliko začetnico jih pišemo le, če poimenujemo ceste in ulice. Slovenska ulica



2. Poglejte si , filmček o KVADRATNEM CENTIMETRU IN KVADRATNEM DECIMETRU. Filmček je naložen v spletni učilnici.
3. Odprite DZ. str. 46 in si preberite celo stran. Poglejte si zapis enot in slike.
4. Pojdite na str. 47 in rešite 1. 2. in 3. nalogo. Rešitve preverite v rešitvah.